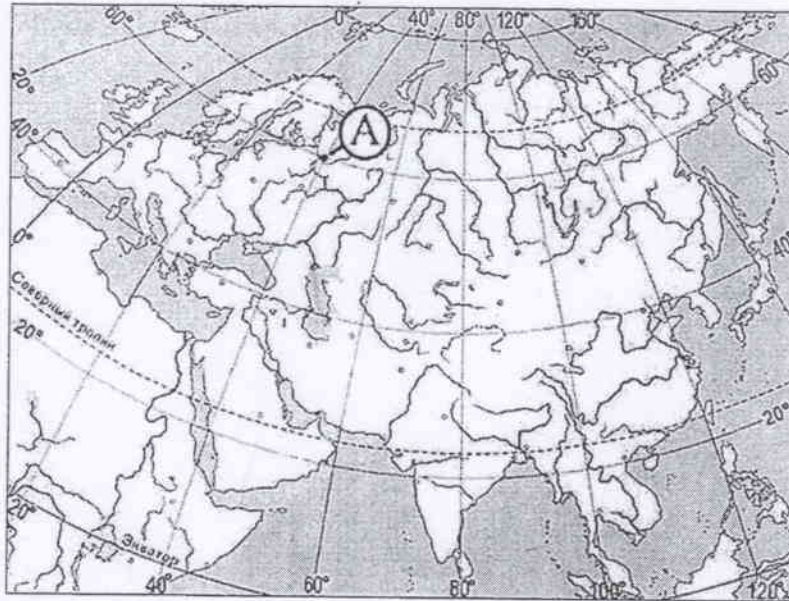
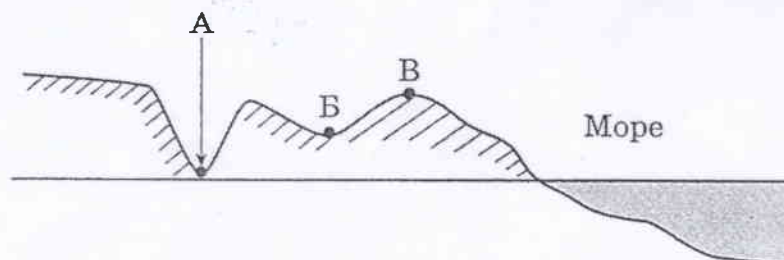


1. Какие географические координаты имеет точка, обозначенная на карте Евразии буквой А?

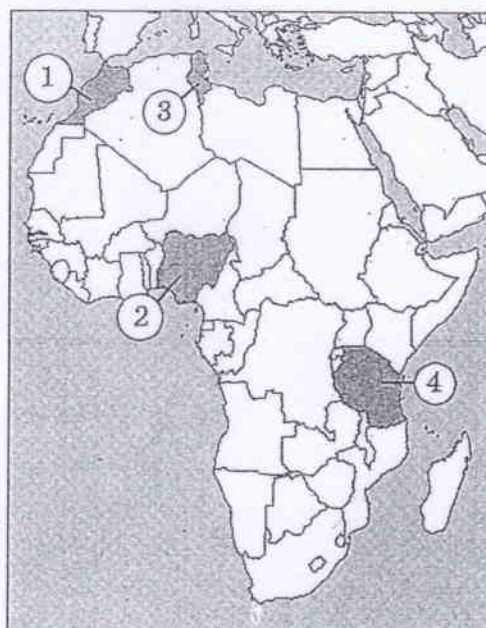


- 1) 60° с.ш. 40° з.д.
  - 2) 40° с.ш. 60° в.д.
  - 3) 40° с.ш. 60° з.д.
  - 4) 60° с.ш. 40° в.д.
2. Какая из перечисленных горных пород относится к группе осадочных пород органического происхождения?
- 1) глина
  - 2) гранит
  - 3) мел
  - 4) базальт
3. На какую из стран приходится наибольший объем выбросов углекислого газа (CO<sub>2</sub>) в атмосферу?
- 1) Индия
  - 2) Саудовская Аравия
  - 3) США
  - 4) Россия
4. В каком из обозначенных на рисунке пунктов атмосферное давление самое высокое?



- 1) А
- 2) Б
- 3) В

5. Установите соответствие между страной и ее расположением на карте, обозначенным цифрой.



СТРАНА	РАСПОЛОЖЕНИЕ НА КАРТЕ
А) Марокко	1) 1
Б) Нигерия	2) 2
В) Танзания	3) 3
Г) Тунис	4) 4

6. Для каких трех из перечисленных стран характерно преобладание иммиграции над эмиграцией?

- |                   |            |
|-------------------|------------|
| 1) Австралия      | 4) Индия   |
| 2) Великобритания | 5) США     |
| 3) Мексика        | 6) Вьетнам |

7. Какие три из перечисленных стран относятся к числу наиболее густонаселенных?

- |                     |             |
|---------------------|-------------|
| 1) Австралия        | 4) Монголия |
| 2) Канада           | 5) Италия   |
| 3) Республика Корея | 6) Япония   |

8. Для какой из перечисленных стран характерна структура ВВП, показанная на диаграмме?

Доля отдельных секторов экономики в ВВП



- |            |               |           |            |
|------------|---------------|-----------|------------|
| 1) Эфиопия | 2) Афганистан | 3) Италия | 4) Нигерия |
|------------|---------------|-----------|------------|





22. Установите соответствие между названием крайней точки территории России и ее характеристикой.

КРАЙНЯЯ ТОЧКА

- А) Балтийская коса
- Б) мыс Дежнева
- В) мыс Челюскин

ХАРАКТЕРИСТИКА

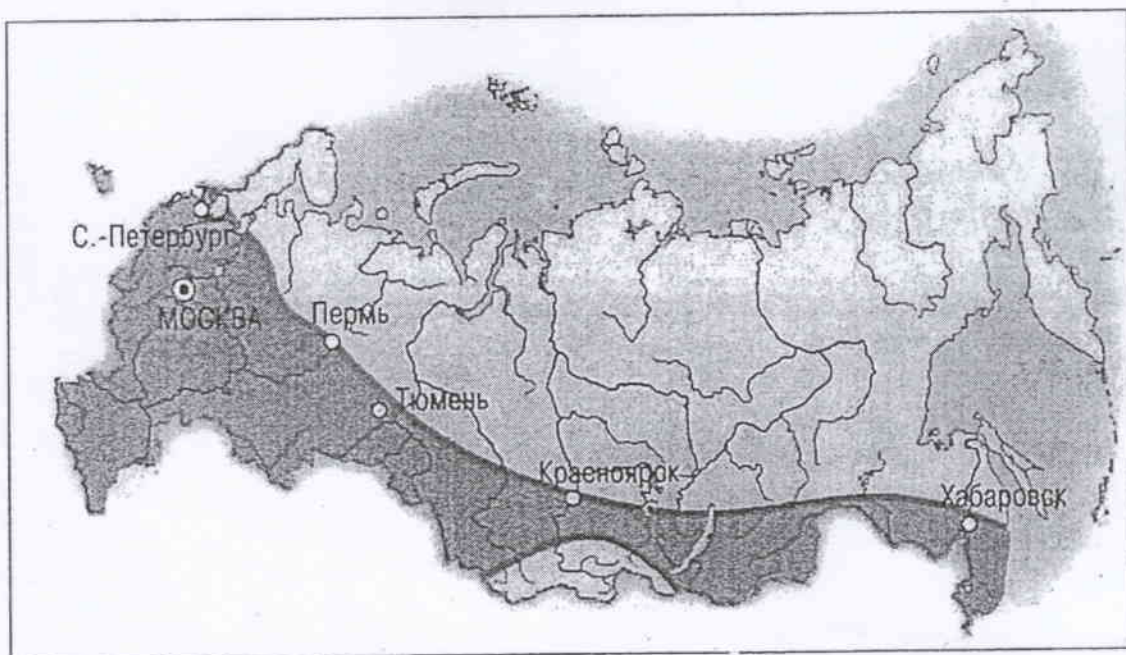
- 1) крайняя северная точка России
- 2) крайняя южная точка России
- 3) крайняя восточная точка России
- 4) крайняя западная точка России

23. С какими двумя из перечисленных стран Россия имеет сухопутную границу?

- 1) Германия
- 2) Дания
- 3) Латвия
- 4) Польша
- 5) Словакия

Ответ:

24. Какая территория выделена темным цветом на картосхеме?



- 1) природная зона степей
- 2) природная зона тайги
- 3) основная зона расселения
- 4) зона распространения землетрясений

25. Какие три из перечисленных стран регионов расположены в пределах основной полосы расселения России?

- 1) Белгородская область
- 2) Липецкая область
- 3) Республика Коми
- 4) Республика Алтай
- 5) Мурманская область
- 6) Новосибирская область

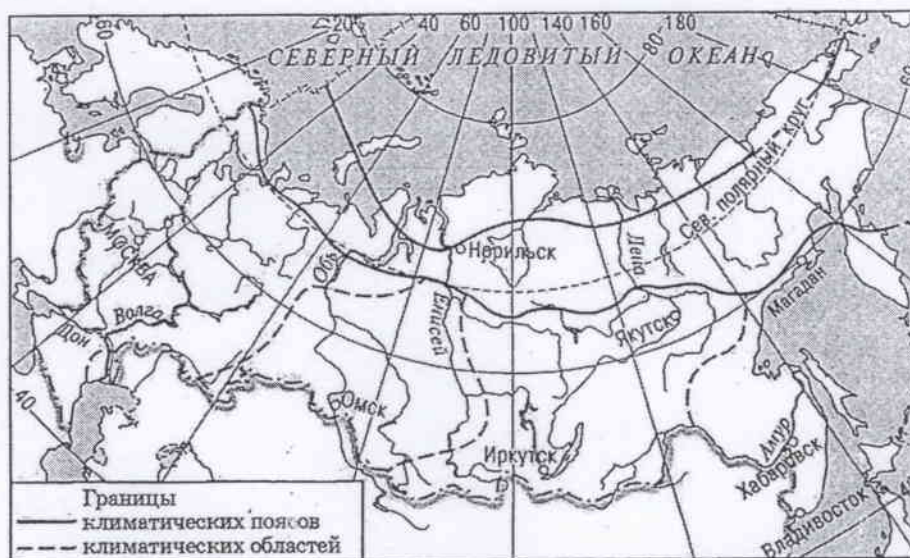
26. Какие три из перечисленных городов являются городами-миллионерами?

- 1) Владивосток
- 2) Красноярск
- 3) Новосибирск
- 4) Омск
- 5) Чита

27. Для какого типа климата умеренного климатического пояса Евразии характерны наиболее низкие температуры января?

- 1) муссонного
- 2) резко континентального
- 3) континентального
- 4) морского

28. Какой из показанных на карте городов расположен в области резко континентального климата?



- 1) Москва
- 2) Омск
- 3) Иркутск
- 4) Владивосток

29. На какой из перечисленных территорий обычно самое прохладное лето?

- 1) Калмыкия
- 2) Астраханская область
- 3) Карелия
- 4) Краснодарский край

30. Укажите в приведенном списке две особенности природы Дальнего Востока.

- 1) ветры муссоны
- 2) наличие действующих вулканов
- 3) самые теплые в России зимы
- 4) преобладание низменностей в рельефе
- 5) преобладание рек с ледниковым питанием

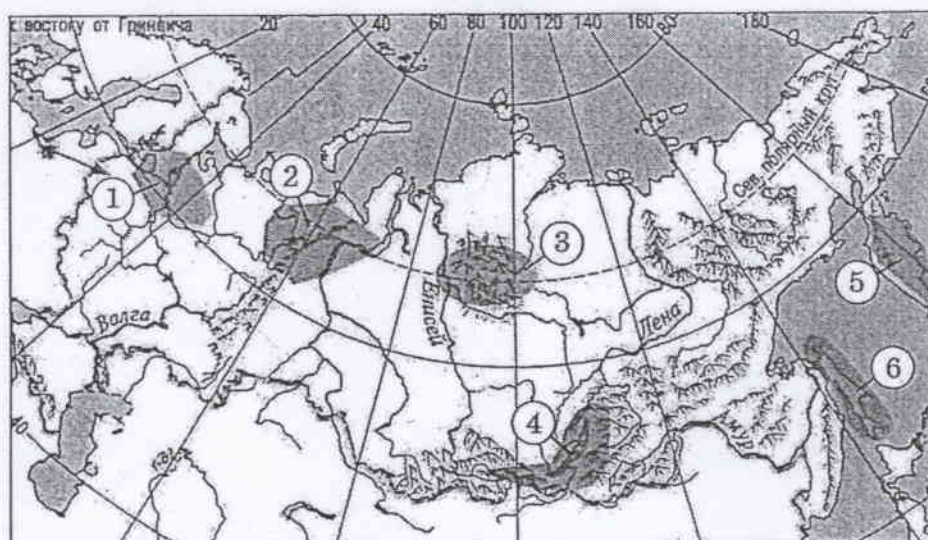
31. В каком из городов, обозначенных буквами на карте России, зима наиболее теплая?



- 1) А
- 2) В
- 3) С
- 4) D

32. Какая природная зона расположена на севере Западной Сибири?
- |           |                          |
|-----------|--------------------------|
| 1) тундра | 3) смешанные леса        |
| 2) тайга  | 4) широколиственные леса |

33. Выберите из обозначенных на карте три территории, в пределах которых часто происходят сильные землетрясения. Обведите соответствующие цифры и запишите их в таблицу.



34. Какие три из перечисленных городов являются крупными центрами по производству меди в России? Обведите соответствующие цифры и запишите их в таблицу.

- |                  |              |
|------------------|--------------|
| 1) Красноуральск | 4) Норильск  |
| 2) Красноярск    | 5) Череповец |
| 3) Салехард      | 6) Ревда     |

35. В каких двух областях Центральной России ведется добыча железных руд?

- |                 |                |
|-----------------|----------------|
| 1) Белгородская | 4) Рязанская   |
| 2) Калужская    | 5) Ярославская |
| 3) Курская      |                |

36. В каких двух из перечисленных городов Урала имеются крупные металлургические комбинаты полного цикла?

- |                 |               |
|-----------------|---------------|
| 1) Ижевск       | 4) Новотроицк |
| 2) Нижний Тагил | 5) Уфа        |
| 3) Екатеринбург |               |

37. Какие два из перечисленных полезных ископаемых добываются в Поволжье?

- |                  |                   |
|------------------|-------------------|
| 1) природный газ | 4) нефть          |
| 2) железные руды | 5) каменный уголь |
| 3) медные руды   |                   |

38. Что неверно для Армянского нагорья
1. Четкое проявление молодого вулканизма
  2. Умеренные природные условия
  3. Проявления вертикальной зональности
  4. Высокое положение относительно соседних территорий
39. В центральную часть Армянского вулканического нагорья не входит
1. Карское нагорье
  2. Сюникское нагорье
  3. Гегамский массив
  4. Горный массив Арарат
40. Выберите вулканические плато Армении
1. Карское            6. Йоркское
  2. Ахалкалакское    7. Ширакское
  3. Джавахетское    8. Егвардское
  4. Апаранское      9. Картлийское
  5. Котайкское      10. Ашотское
41. Выбрать верное для «река - бассейн стока»
1. Тигр - Каспийское море
  2. Чорох - Чёрное море
  3. Евфрат - Каспийское море
  4. Араке - Персидский залив
42. Какое утверждение верно?
1. Горно-сухолобивая растительность распространена между степной и лесной растительностью
  2. Пустынная - полупустынная растительность распространена на высотах 1200-1500 м.
  3. Альпийская и субальпийская растительность распространяется на высотах 1500-2200 м.
  4. Леса занимают в РА около 10% территории и распространяется на северо-восток и юго-восток
43. На высоте 1000-1500 м проживает население
1. 17%
  2. 25%
  3. 4%
  4. 54%
44. Из перечисленных городов РА выписать курортные города
1. Дилижан            6. Артик
  2. Цахкадзор        7. Джермук
  3. Ехегнадзор        8. Ванадзор
  4. Каджаран         9. Гюмри
  5. Арзни              10. Сисиан
45. Какое утверждение верно?
1. Самый крупный город Армавирской области - Армавир
  2. Мецамор - однофункциональный город
  3. В Армавирской области сеть сельских поселений наиболее густая в западной части
  4. В Армавирской области уровень урбанизации 50%



46. В каких трех из следующих высказываний содержится информация о миграциях населения?
- Население нефтедобывающих стран Юго-Западной Азии увеличивается не только за счет естественного прироста. За последние десятилетия эти страны стали центром притяжения трудовых ресурсов из менее развитых стран.
  - В приокеанской полосе шириной 300—350 км сосредоточено 9/10 населения Бразилии.
  - Территориальное перераспределение населения происходит также между большими и малыми городами.
  - Основная часть населения Японии сконцентрирована в больших городах и городских агломерациях.
  - Ежегодно в мире более 2,5 млн людей переезжают из развивающихся стран в Европу и Северную Америку.
  - Население Африки ежегодно увеличивается примерно на 20 млн человек, Латинской Америки — более чем на 6 млн человек.
47. В каких трех из следующих высказываний содержится информация об урбанизации?
- Крупные города образуют зону притяжения, формируя городские агломерации из множества близко расположенных городов и поселков.
  - Предгорья Северного Кавказа — один из наиболее густозаселенных районов России с густой сетью крупных сельских поселений.
  - В России формируется мегалополис вдоль оси Москва — Владимир Нижний Новгород.
  - В Канаде 2/3 населения живет в южной 150-километровой зоне, протянувшейся вдоль границы с США.
  - Наиболее высокая доля городского населения в России характерна для Мурманской области.
  - В конце XX в. за пределами своих стран постоянно или временно работали 35—40 млн человек.
48. В каком из высказываний содержится информация о проявлении международной экономической интеграции?
- В последние десятилетия в США, Западной Европе, Японии развитие цветной металлургии, как и черной, резко замедлилось.
  - На мировой рынок поступает 10—15% производимого в мире зерна, в основном пшеницы и кукурузы.
  - Индия, Бразилия и Мексика, обладающие очень большим природным, людским и экономическим потенциалом, являются лидерами развивающегося мира.
  - Страны Европейского союза проводят единую финансовую политику.
49. В каком из высказываний содержится информация об отрасли международной специализации Бразилии?
- Во внешней торговле Бразилии доминируют связи с промышленно развитыми странами, но расширяется торговля и с соседями по региону.
  - Наличие крупных морских портов в Бразилии обеспечивает экономические связи со многими странами мира.
  - Благодаря разведанным в 80-е гг. XX в. месторождениям нефти страна резко сократила её ввоз в страну.
  - Собственные запасы бокситов и выработка на ГЭС дешёвой электроэнергии способствовали превращению Бразилии в одного из ведущих мировых экспортёров алюминия.
50. Какие три из следующих утверждений о Канаде верны?
- Территория страны омывается водами трех океанов.
  - Страна является крупнейшей по размерам территории на материке, на котором она расположена.
  - Страна относится к числу наиболее густонаселенных стран мира.
  - Для населения страны характерна естественная убыль.
  - Страна входит в число крупнейших производителей и экспортёров продукции лесной и целлюлозно-бумажной промышленности.
  - Страна входит в состав международной интеграционной организации АСЕАН.